

المراجعة النهائية في الكيمياء للثانوية العامة ٢٠١٧ - هام جداً

١٤. اشرح بجره عملية توضيح تأثير التركيز على معدل التفاعل الكيميائي (قانون فعل الكتله)

ج: قانون فعل الكتله للعلمان البروجييان (جولد بروج ، فاج)

عند ثبوت درجة الحرارة تتناسب سرعة التفاعل تناسباً طردياً مع حاصل ضرب التركيزات الجزئية للمواد المتفاعلة (كل مرفوع لأس يساوي عدد مولات الجزئيات أو الأيونات في معادلة التفاعل الموزونة).

عند إضافة محلول كلوريد الحديد III (لونه أصفر) تدريجياً إلى محلول ثيوسينات الأمونيوم (عديم اللون) تدريجياً يتلون خليط التفاعل بلون أحمر دموي



عند زيادة تركيز أحد المواد المتفاعلة فإن التفاعل ينشط في الإتجاه الذي يقلل من فعل هذا المؤثر (إتجاه تكوين النواتج = الإتجاه الطردي)

مثلاً: إضافة المزيد من كلوريد الحديد III تؤدي إلى زيادة اللون الأحمر لتكون المزيد من ثيوسينات الحديد III

عند زيادة تركيز أحد المواد الناتجة فإن التفاعل يسير في الإتجاه الذي يقلل من فعل هذا المؤثر (إتجاه تكوين المتفاعلات = الإتجاه العكسي)

مثلاً: إضافة المزيد من كلوريد الأمونيوم تؤدي لتقليل اللون الأحمر مما يدل على نقص تركيز ثيوسينات الحديد III وإن التفاعل يسير في الإتجاه العكسي.

١٥. ما الفرق بين الحديد الصلب، الصلب الكربوني، صلب لا يصدأ

ج: الحديد الصلب: سبيكة بينية من الحديد والكربون

الصلب الكربوني: سبيكة السميتيت Fe_3C

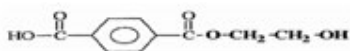
صلب لا يصدأ: سبيكة إستبدالية م الحديد والكروم

١٦. وضح بالمعادلات الكيميائية الموزونة كيف يمكن الحصول على هيدروكسيد حديد II من كبريتات حديد II

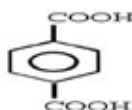


المراجعة النهائية في الكيمياء للثانوية العامة ٢٠١٧ - هام جداً

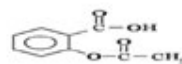
الداكرون



حمض تيرفثاليك



الإسبرين



٢٠. أكتب الصيغة الكيميائية لكل من

Ni₃Al سبيكة الألومنيوم والنيكل

Fe₃O₄ الخنثيت

Fe₃C السيمنتيت

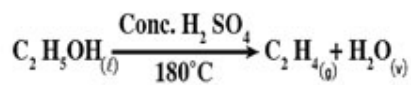
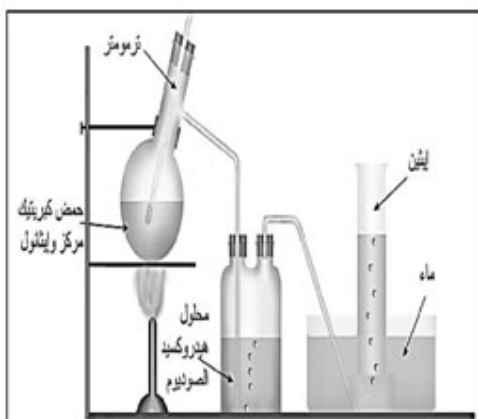
FeCO₃ السيدريت

Au₂Pb سبيكة الرصاص والذهب

CO + H₂ الغاز المائي

٢١. اشرح تجربة مع رسم الجهاز الخاص بتحضير غاز الأيثين بالمعمل

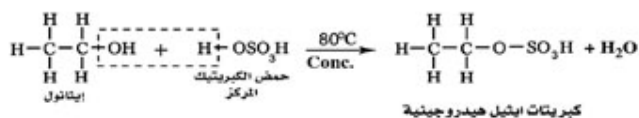
ج: يحضر الإيثين بانتزاع الماء من الكحول الإيثيلي بواسطة حمض الكبريتيك المركز الساخن إلى ١٨٠°م باستخدام الجهاز المبين طبقاً للمعادلة الآتية:



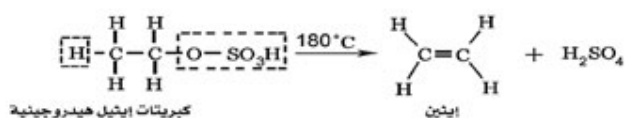
وتم التفاعل على خطوتين:

١. يتفاعل الإيثانول مع حمض الكبريتيك المركز مكوناً كبريتات إيثيل هيدروجينية

جهاز تحضير الإيثين في العمل



٢. تنحل كبريتات الإيثيل الهيدروجينية بالحرارة ويتكون الإيثين



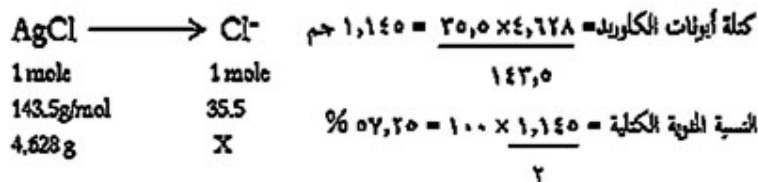
المراجعة النهائية في الكيمياء للثانوية العامة ٢٠١٧ - هام جداً

مسائل وأسئلة متنوعة

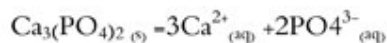
٢٢. أذيب ٢ جم من كلوريد الصوديوم (غير نقي) في الماء وأضيف إليها وفرة من نترات الفضة فترسب ٤,٦٢٨ جم من كلوريد الفضة. احسب النسبة المئوية الكتلية للكُلور في عينة كلوريد الصوديوم غير النقي حيث:

$$Na= 23, Cl=35.5, Ag=108$$

الحل:



٢٣. احسب حاصل الإذابة K_{sp} لمُح فوسفات الكالسيوم $Ca_3(PO_4)_2$ علماً بأن تركيز أيون الكالسيوم 1.0×10^{-3} مولار وتركيز أيون الفوسفات 1.0×10^{-4} مولار ...

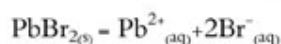


$$K_{sp} = [Ca^{2+}]^3 [PO_4^{3-}]^2$$

$$= (2 \times 10^{-3})^3 \times (1 \times 10^{-4})^2$$

$$= 8 \times 10^{-11}$$

٢٤. احسب حاصل الإذابة K_{sp} لمُح فوسفات الكالسيوم $PbBr_2$ علماً بأن درجة إذابته 1.0×10^{-2} مولار



الحل

$$K_{sp} = [x] [2x]^2$$

$$= (1.04 \times 10^{-2}) \times (2 \times 1.04 \times 10^{-2})^2 = 4.5 \times 10^{-6}$$

٢٥. باستخدام محلول يوديد البوتاسيوم كيف يمكن التعرف على الأنود والكاثود في بطاريه مغموسة المعالِم (غير واضحة الأقطاب)

ج: نقوم بتوصيل محلول يوديد البوتاسيوم ببطارية السيارة فنلاحظ ان أيون اليوديد السالب يحدث له أكسدة وتتصاعد أبخرة اليود وتتصاعد عند القطب الموجب الكاثود (خلية جلفانية) وهو الذي تتصاعد عنده أبخرة اليود البنفسجية بالتالي القطب الثاني هو القطب السالب (الأنود).

المراجعة النهائية في الكيمياء للثانوية العامة ٢٠١٧ - هام جداً

٢٦. ماهى انواع التفاعلات التى تستخدم فيها عملية المعايرة ؟

ج: تحدث في عملية المعايرة إحدى التفاعلات الآتية: تفاعل تعادل أو تفاعل أكسده واختزال أو تفاعل ترسيب

٢٧. ما المقصود بحالة الإتزان

ج: الحالة التي يتساوى عندها تركيز المتفاعلات وتركيز النواتج أو الحالة التي يتساوى عندها معدل التفاعل الطردى والعكسى.

٢٨. ما أثر ملح كلوريد الحديد III على ورقة عباد الشمس ؟

ج: محلول كلوريد الحديد III حمضى التأثير على ورقة عباد الشمس حيث أن الحديد العنصر الإنتقالى أصله فلز يعطى أيونات موجبة ويتحد مع مجموعة الهيدروكسيد جزئى الماء ويعطى (هيدروكسد العنصر الإنتقالى) وجميع هيدروكسيدات العناصر الإنتقالية قلوبات ضعيفة.

٢٩. وضح بالرسم مع كتابة البيانات التفاعلات الحادثة عند الأقطاب مع رسم الفرن ومعادلة الأنود والكاثود والتفاعل الكلى

الإجابة

لإستخلاص الألومنيوم في الصناعة

تحضير الألومنيوم يستخلص الألومنيوم بالتحليل الكهربى لحام البوكسيت (Al_2O_3) المذاب مصهور الكبروليت (Na_2AlF_6)

والمحتوي على قليل من الفلورسبار (CaF_2) لخفض درجة إنصهار المخلوط من $2040^{\circ}C$ إلى $950^{\circ}C$

التفاعلات: عند مرور التيار الكهربى يتأين الإلكتروليت

عند الأنود (القطب الموجب = المصعد) (أكسدة)

عند الكاثود (القطب السالب = المهبط) (اختزال)

والتفاعل الكلى هو

ويتفاعل الأكسجين المتصاعد مع أقطاب كربون المصعد مكوناً غازات أول و ثانى

أكسيد الكربون فتتآكل أقطاب المصعد ولذا يجب تغييرها باستمرار.

$3/2 O_2 + 2C \longrightarrow CO + CO_2$

حديثاً يستعاض عن الكبروليت باستخدام مخلوط من فلوريدات الألومنيوم

والصوديوم والكالسيوم حيث يعطى هذا المخلوط مع البوكسيت مصهوراً يتميز

بانخفاض درجة إنصهاره وكذلك إنخفاض كثافته مقارنة بالمصهور مع معدن

الكبروليت)انخفاض كثافة المصهور يسهل عملية فصل الألومنيوم المنصهر والذي يكون راسباً في قاع خلية التحليل

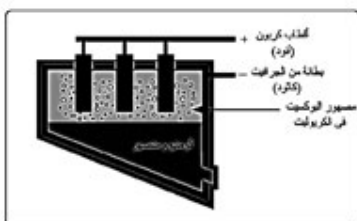
٣٠. كيف تجري التحويلات الآتية

٣١. من أسيتات الصوديوم كيف تحصل على: ١. أسود كربون ٢. الغاز المائى ٣. الكلوروفورم

الإجابة

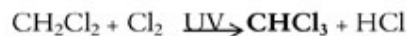
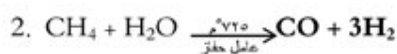
١. $CH_3COONa + NaOH \xrightarrow{CaO/\Delta} CH_4 + Na_2CO_3$

$CH_4 \xrightarrow[\text{مكزل عن الهواء}]{1000^{\circ}C} C + 2H_2$



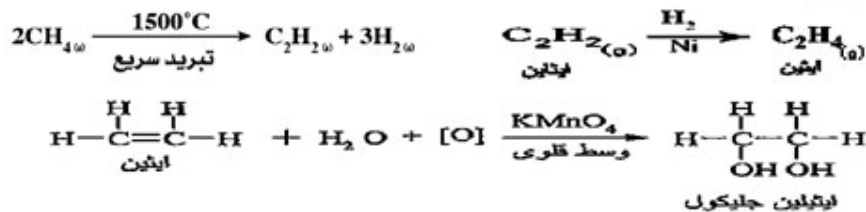
خلاية التحليل الكهربى للبوكسيت

المراجعة النهائية في الكيمياء للثانوية العامة ٢٠١٧ - هام جداً

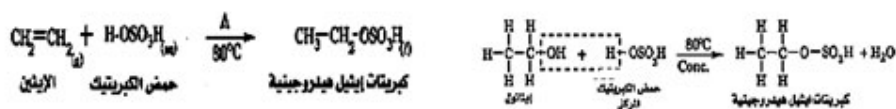


٣٢. إيثيلين جليكول من الميثان

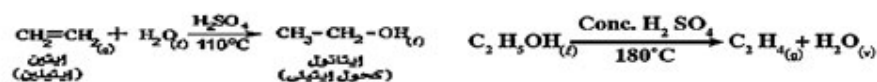
الإجابة



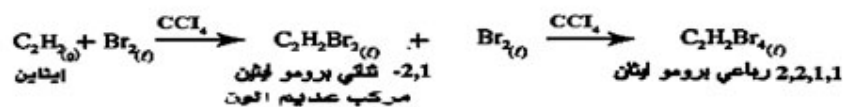
٣٣. كبريتات الإيثيل الهيدروجينية من كل من الإيثين والإيثانول



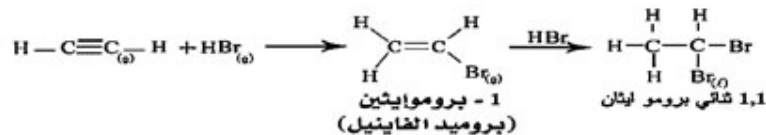
٣٤. الإيثانول من الإيثين والعكس



٣٥. رباعي بروموإيثان من الإيثين



٣٦. 1,1-ثنائي برومو إيثان من الإيثانين



المراجعة النهائية في الكيمياء للثانوية العامة ٢٠١٧ – هام جداً

اختر الإجابة الصحيحة لكل مما يأتي:

١. تستخدم سبيكة من مع الحديد لصناعة خطوط السكة الحديد
 - أ. الكروم \ominus المنجنيز ج. الكوبلت د. النيكل
٢. تفاعل محلول ملح مع محلول نترات الفضة يتكون راسب اصفر يذوب في محلول النشادر
 - أ. الكلوريد ب. البروميدي ج. اليوديدي \ominus الفوسفات
٣. عند مرور كمية من الكهرباء في عدة خلايا إلكترولية متصلة معاً على التوالي فإن كتل المواد المتكونة عند الأقطاب تتناسب مع
 - أ. الكتل الذرية \ominus الكتل المكافئة ج. الأعداد الذرية د. التكافؤ
٤. يتكون قطب الهيدروجين القياسي من صفيحة من البلاتين مغطاه بطبقة أسفنجية من
 - أ. البلاتين الأسود ب. المحارصين ج. أكسيد النحاس الأسود د. الزئبق
٥. إذا علمت أن جهود إختزال أربعة عناصر هي:
 ١. $Y^{2+}/Y^0 E^0 = +0.34V$ ب. $X^{2+}/X^0 E^0 = -0.76V$
 - ج. $W^{2+}/W^0 E^0 = -0.8V$ د. $Z^{2+}/Z^0 E^0 = -0.28V$
 فإن أكثرها نشاطاً في الإحلال محل باقي هذه الفلزات في محاليل أملاحها هو:
 - أ. W ب. X \ominus Y د. Z
٦. التركيب الكيميائي لصدأ الحديد عبارة عن:
 - أ. أكسيد حديد II ب. أكسيد حديد III ج. هيدروكسيد حديد II \ominus هيدروكسيد حديد III

أذكر التفسير العلمي لما يأتي:

٧. يستخدم الجير الصودي بدلاً من الصودا الكاوية عند تحضير الميثان في المعمل
 - ج: لأن الجير الصودي عبارة خليط (NaOH والجير الحي CaO) ولا يدخل الجير الحي في التفاعل إنما يساعد على خفض درجة إنصهار خليط التفاعل.
٨. إسطوانات البوتاجاز في المناطق الباردة تحتوى على نسبة أكبر من البروبان .
 - ج. لأن البروبان أكثر تطايراً من البيوتان أى أقل في درجة الغليان.

أذكر الأساس العلمي لما يأتي:

٩. أذكر الأساس العلمي لصناعة الصلب

ج. تعتمد صناعة الصلب على عمليتين هما:

- التخلص من الشوائب الموجودة في الحديد الناتج من أفران الإحتزال
- إضافة بعض العناصر للحديد لتكسب الصلب الناتج الخواص المطلوبة

١٠. أذكر الأساس العلمي الذي بني عليه الكشف عن أيونات حمض الهيدروكلوريك

ج: عند إضافة حمض الهيدروكلوريك المخفف لأملاح هذه الأيونات تنفصل هذه الأحماض في صورة غازات يتم الكشف عنها بواسطة كاشف مناسب وذلك لأن حمض الهيدروكلوريك المخفف أكثر ثباتاً من الأحماض التي اشتقت منها هذه الأيونات

١١. إشرح الأساس العلمي لكيفية عمل المنظف الصناعي

الأساس العلمي لعمل المنظف الصناعي ودوره في عملية التنظيف

١. ذوبان المنظف في الماء يقلل من التوتر السطحي للماء مما يزيد من قدرة الماء على تبليل (تندبة) النسيج المراد تنظيفه
٢. تترتب جزيئات المنظف بحيث يتجه الذيل (الكاره للماء) نحو البقعة الدهنية ويلتصق بها الرأس (المحب للماء) نحو الماء
٣. بذلك تغطي البقعة الدهنية بجزيئات المنظف وعند الغسيل يؤدي الإحتكاك الميكانيكي على طرد البقع الدهنية وتكسيدها إلى كرات صغيرة.
٤. تنفصل هذه الكرات نتيجة تناثر رؤوس جزيئات المنظف (لأنها متشابهة الشحنة) وتتعلق في الماء على هيئة مستحلب ويتم التخلص منها بعملية الشطف.

قارن بين كل مما يأتي:

١٢. قارن بين التأين التام والتأين الضعيف

ج: التأين التام: عملية تحول كل الجزيئات غير المتأينة إلى أيونات في المحاليل المائية للإلكتروليتات القوية
التأين الضعيف: عملية تحول جزء ضئيل من الجزيئات غير المتأينة إلى أيونات في المحاليل المائية للإلكتروليتات الضعيفة.

١٣. ما الفرق بين الذوبان والتميو

ج: الذوبان: تحلل مائي للأملاح في الماء ينتج عنه تكون الحمض والقاعدة اللتان أشتقا منهما الملح
التميو: هو تحلل مائي للأملاح في الماء ينتج عنه تكون الحمض والقاعدة اللتان أشتقا منهما الملح بحيث ينتج حمض ضعيف أو قلوي ضعيف أو كلاهما فقط ولا ينتج عن الإذابة قلوي وحمض قويان فيصبح هذا التحلل المائي ذوبان وليس تميو.

المراجعة النهائية في الكيمياء للثانوية العامة ٢٠١٧ - هام جداً

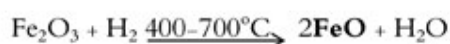
١٧. وضح بالمعادلات الكيميائية الموزونة كيف يمكن الحصول كبريتيد النحاس II من كبريتات النحاس II

ج: يتكون راسب أسود من كبريتيد نحاس II يذوب في حمض النيتريك الساخن.

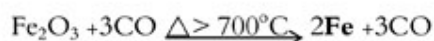


وضح بالمعادلات الموزونة كيف تحصل على كلاً مما يأتي:

أكسيد حديد II من هيدروكسيد حديد III




الحديد من أكسيد الحديد II



الحديد من أكسيد الحديد المغناطيسي

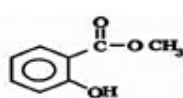


١٨. أثبت بالمعادلات الموزونة وجود الكربون والهيدروجين بالمركبات العضوية

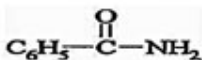


١٩. اكتب الصيغة البنائية لما يلي

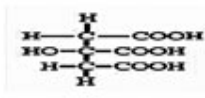
زيت المروخ



بنزamide



حمض الستريك



حمض البكريك

