

**السؤال الاول - دتل على صحة او خطأ تلك العبارات الآتية مع ذكر السبب في الحالتين**

- 1- النموذج المثالي للدولة الوحودية لدولة فرنسا ينتشر في بقاع كثيرة من العالم
- 2- قوة الدولة في المجال العسكري تلعب دورا مؤثرا في العلاقات الدولية
- 3- توجد العديد من نماذج الاتفاقيات خاصة بتنظيم حركة الرعاة
- 4- قرارات الأمم المتحدة تتميز بالحيادية لهذا أسهمت في حل الكثير من القضايا
- 5- كل القوى الكبرى العالمية هي قوة عسكرية
- 6- نجاح التكتلات الاقتصادية يتوقف على تشابه شكل الدول ونوعها
- 7- اصحاب البلاد الاصليين في الولايات المتحدة عانو من التفرقة العنصرية
- 8- التكتلات الاقتصادية بأشكالها المختلفة تشغل حيزا مكائيا على خريطة العالم
- 9- تعدد اسباب الهجرة الاجبارية داخل الاوطان وخارجها
- 10- كانت الصين والاتحاد السوفيتي سابقا من الدول المؤسسة لحلف وارسو العسكري
- 11- هناك تشابه بين مصر والبرازيل وتشابه بين مصر وفرنسا وبين مصر والمغرب وجيبوتي وعمان

**الاجابات**

- 1- العبارة خطأ لان الدولة الوحودية فعلا اكثر انتشارا في بقاع العالم ولكن نموذج فرنسا كدولة وحدوية لا ينطبق لا على عدد محدود من الدول مثل فرنسا فهي النموذج المثالي
- 2- العبارة صحيحة - فما زالت روسيا الاتحادية الوريث الأكبر للاتحاد السوفيتي السابق – تلعب دورا مؤثرا في الاحداث العالمية مثل مشكلة اوكرانيا والأوضاع في سوريا
- 3- العبارة صحيحة – حيث هناك العديد من الاتفاقيات الخاصة بتحديد وتنظيم حركة الرعاة وتحديد رؤوس الماشية ومناطق ارتجاعها عبر المعابر والشروط الصحية مثل اتفاقيات بين بوركينا فاسو والنيجر – ترسيم الحدود بين السعودية واليمن – اللجنة العليا للتعاون بين موريتانيا ومالي – الاتفاقية بين موريتانيا والسنغال – وغرب افريقيا الايكواس
- 4- العبارة خطأ – لان هناك عدة اعتبارات تؤخذ على قرارات الامم المتحدة وهي هيمنة الدول الكبرى على قراراتها وعدم الحيادية في بعض القضايا مثل قضية فلسطين
- 5- العبارة خطأ – كل القوى الكبرى العالمية قوى صناعية ولا يمكن لاي سياسة سواء دفاعية او هجومية ان تكون ذات اثر اذا لم تساندها قدرة على تصنيع الالات الحربية وتعد الصناعات الاستراتيجية هي التي تعطي للدولة اهمية خاصة مثل صهر المعادن والصناعات الهندسية
- 6- العبارة خطأ – لان نجاح التكتل الاقتصادية عوامل نجاحة الحجم السكاني وتنوع الموارد الاقتصادية والبنية الاسياسية ولكن دول التكتل مختلفة من حيث النوع في الاتحاد الاوروبي هناك دول وجمهورية مثل فرنسا وملكي من بريطانيا وشكل الدول في الاتحاد الاوروبي مختلف فهناك مجزاء برياً بحرياً مثل ايطاليا وشكل مندمج مثل فرنسا فليس الشكل والنوع مهما في اقامة التكتل الاقتصادي
- 7- العبارة خطأ – لان اصحاب البلاد الاصليين هم الهنود الحمر ولكن الزنوج هم الذين عانو من التفرقة العنصرية وليسو من اصحاب البلاد
- 8- العبارة صحيحة – لانها تضم دولا محددة تشغل مساحة من الارض محددة بحدود سياسية لاعضائها
- 9- العبارة خطأ تتعدد – اسباب الهجرة الاجبارية داخل الاوطان وليس خارجها مثل الكوارث الطبيعية – دافع قومي مثل بناء السد العالي وهجرة سكان النوبا – الحروب الاهلية والهجرة خارج الدولة – ويطلق عليهم اللاجئين
- 10- العبارة خطأ – لم تكن الصين من مؤسسي حلف وارسو ولكن تعهدت بدعم الاعضاء في الحلف ولكن لاتحاد السوفيتي سابقا من مؤسسي حلف وارسو والذي كان السبب في انشاء انضمام المانيا لحلف الناتو
- 11- العبارة صحيحة – التشابه بين مصر والبرازيل من حيث مظاهر السطح متنوع – والتشابهة بين مصر وفرنسا من حيث الشكل والنوع وشكل الحكم جمهوري في الاثنين – والتشابهة بين مصر والمغرب وجيبوتي وعمان جبة بحرية يتحكمان في مواقع استراتيجية

**السؤال الثاني اختر الاجابة الصحيحة مما يلي**

- 1- جنوب افغانستان منطقة قلب ذو ثقل ..... ( ديني ثقافي – صناعي اقتصادي – سكاني – سياسي )
- 2- نجد في مقدونيا وصربيا اقلية ..... ( صربية وكرواتية – البانية – كردية – روسية )

- 3- لجأت تونس في حل مشكلتها مع ليبيا الى .....(المساعي الحميدة – الوساطة – التوفيق – التحكيم – المفاوضات )
- 4- الجهاز التنفيذي للاتحاد الاوربي هو .....(المجلس الاوربي – البرلمان الاوربي – مجلس الاتحاد الاوربي – المفوضية الاوربية)
- 5- تم اختيار موسكو عاصمة لروسيا على اساس .....(سهولة المواصلات – السيادة القومية – العامل التاريخي – الاهمية الدينية)
- 6- الهيئة الادارية المركزية لمجلس التعاون لدول الخليج توجد في .....( ابو ظبي – الرياض – مكة – دبي )
- 7- مجموعة التفاعلات بين اعضاء المجتمع الدولي مستقاة من فلسفة العولمة تعرف .....(النظام العالمي الجديد – العلاقات الدولية – الاحلاف – التكتلات الاقتصادية )
- 8- يتم فيها تحرير تدفق العملة وراس المال بين دول الاعضاء يعرف .....(التجارة الحرة – الاتحاد الجمركي – السوق المشتركة – الوحدة الاقتصادية )
- 9- يتم تعيين خط الحد على الطبيعية ويتم الاستعان بنصوص المعاهدة والخرائط التفصيلية في مرحلة .....(الاولى – الثانية – الثالثة – الرابعة )
- 10 – يعتمد التقدم الصناعي في الوقت الحالي على .....(المواد الخام – العقول والمهارات – الصناعات الاستراتيجية – المعادن الاستراتيجية )
- 11- من الدول التي يقع قلبها في عاصمتها دولة .....(اسبانيا – فرنسا مصر – السعودية )
- 12- تمارس الدولة سيادتها كاملة على المياه ..... ( المحايدة – المياه المفتوحة – الاقليمية – اعالي البحار )
- الاجابة 1 – قلب سكاني – 2 – البانية – 3 – التحكيم – 4 – المفوضية الاوربية – 5 – السيادة القومية – 6 – الرياض – 7 – النظام العالمي الجديد –**
- 8- السوق المشتركة – 9 – المرحلة الثالثة – 10 – العقول المهارات – 11 – مصر – 12 – المياه الاقليمية**

#### السؤال الثالث – مالتائج المترتبة على

- 1- ارتفاع فنة صغار السن في الدول النامية
- 2- صدور الاعلان العالمي لحقوق الانسان عام 1948
- 3- تاثير الحرب العالمية الاولى والثانية على خريطة العالم السياسية
- 4- ارتفاع حجم السكان بالنسبة لدول اعضاء التكتلات الاقتصادية
- 5- النظام الدولي الجديد سواء بالنسبة للدول النامية او المتقدمة
- 6- انهماك الولايات المتحدة والاتحاد السوفيتي سابقا في سباق التسلح
- 7- التقنية الحديثة وعلاقتها بالحدود
- الاجابة**
- 1- ارتفاع نسبة الاطفال دون الخامسة عشر ارتفاع معدل الاعالة ويزداد الضغط على الضغوط على الخدمات ويقل قوى الانتاج مما يؤثر على الانشطة الاقتصادية وقوة الدولة السياسية – بعكس اذا ارتفعت نسبة الشباب فذلك يشكل اساس القوى العاملة لانشاطها الاقتصادية وباجور منخفضة – ولهذا يلعب التركيب العمري للسكان في قوة الدولة او ضعفها
- 2- اهتم بقضية التميز بين البشر وبحقوقهم المدنية والسياسية والثقافية – 2- تضمن كافة الضمانات الدولية للأفراد 3- جعل كل دساتير العالم بة نص يعالج حقوق الاقليات داخل كل دولة بعدم التميز بين افراد الدولة الواحدة
- 3- تاثير الحرب العالمية الاولى والثانية على خريطة العالم السياسية 1- اختفت دول وظهرت دول – 2- عدلت حدود دول – 3- اختفت امبراطوريات وحل محلها قوى عظمى مثلما حدث في المانيا والتي انقسمت المانيا الشرقية والمانيا الغربية
- 4- ارتفاع السكان بالنسبة لدول التكتلات الاقتصادية يؤدي الى 1- ضمان سوق بين دول التكتل فتشجع على قيام الانشطة الاقتصادية – وجود حجم من العمالة يكون قادرا على استثمار موارد الدول 3- هذه العمالة عنصر اساسي في كل دولة 4- بالإضافة ان تشابة العادات والتقاليد ( الخصائص الثقافية ) متشابهة للسكان ادى الى استمرار التكتل
- 5- تاثير النظام العالمي الجديد على الدول النامية والدول المتقدمة 1- احتكار مطلق للسلاح والتكنولوجيا للدول الغربية الراسمالية – تحول المساعدات الاقتصادية والمالية والتكنولوجية لصالح العلاقات الجديدة بين شرق اوربا والغرب على حساب الدول النامية 3- تضاعف الدور الذي تلعبه حركة عدم الانحياز في

- العلاقات الدولية 5- التدخل الامريكى فى الشئون الداخلى لبعض الدول 6- انتشار العنف وقيام الحروب الاهلية وحروب الحدود مثل الصومال والكنغو – توظيف التكنولوجيا من اجل الوصول الى اعلى معدلات الانتاجد 7- الصراع الخفى على المواد الخام التى تدخل فى الصناعات التكنولوجية مثل اليورانيوم ولهذا الصراع على قارة افريقيا من اجل هذا المعدن
- 6- انهماك الولايات المتحدة والاتحاد السوفيتى فى سباقى سياسة التسلح I- ارهاق اقتصاد الدولتين – اضعاف هيئة الامم المتحدة مما ادى الى عدم قدرة المنظمة الدولية على تحقيق السلام والامن الدوليين – زيادة حدة الحرب الباردة
- 7- التقنية الحديثة وعلاقتها بالحدود هى – التقنية الحديثة لعبت دورا فى حماية الحدود ومراقبتها الجوية وعبر الاقمار الصناعية 2- اثرت التقنية الحديثة والتطورات على وسائل الحرب خاصة فى مداها وسرعتها وفعاليتها فى مداها وسرعتها فى التدمير وبذلك اسقطت وظيفة الحد الامنى نتيجة تخطيها العقبات الطبيعية كالجبال

**السؤال الرابع ماذا يقصد بكلامن** –الدول الحبيسة – الجيبية – البحرية – البحرية – النظام السياسى فى صورته المؤسسية او التنظيمية

- الاجابة I** – الدولة الحبيسة هى تلك الدول التى لاتطل على اى مسطح مائى مفتوح واكبر قارات العالم فى الدول الحبيسة افريقيا ولهذا يقل اهمية الموقع الجغرافى لدولها –وقد تكون دول حبيسة بحيرية مثل اوغندا الدول الجيبية مثل ليسوتو ويطلق عليها **الدول المطوقة** ولابد ان تتبع الدولة الجيبية فى سياسيتها الداخلية والخارجية لها مما يضعف قوتها السياسية والاقتصادية والعسكرية ولهذا تسعى الدول المطوقة للحفاظ على علاقتها الودية مع الدولة المطوقة لها
- الدول البحرية – هى تلك الدول التى تتمشى حدودها مع بحيرا تمثل اوغندا وكينيا وتنزانيا واوالولايات المتحدة وكندا ( وقد تكون الدولة بحيرية وبحرية مثل تنزانيا وكينيا – والولايات المتحدة وكندا الدول البحرية هى تلك الدول التى تطل على مسطح مائى مفتوح – قد توجد بجهة مثل شيلى او جبهتين مثل مصر والمغرب – جزرية مثل اليابان
- النظام السياسى فى صورته المؤسسية او التنظيمية :- هو مجموعة المؤسسات التشريعية والتنفيذية والقضائية التى تتوزع عملية صنع واتخاذ القرار السياسى



**السؤال الخامس امامك خريطة لقارة اوربا وضح عليها مايلى**

- الرمز الدال ( أ ) دولة اتحدت بعد الحرب انهيار الاتحاد السوفيتى  
الرمز ( ب ) دولة مجزاء برىا بحريا عاصمتها تاريخية  
الرمز ( ج ) دولة النموذج الامثل للدولة الوحودية –  
والشبة رئاسى وبها نهر لايتير  
مشكلات سياسية
- ثم اكتب مدلول الارقام 2- دولة تشترك مع تونس فى مضيق صقلية  
3- دولة لديها اكتفاء ذاتى وحدودها مثالية – 4- دولة انقسمت بين الحرب العالمية الاولى و  
والثانية – 5- دولة جعلت دولة عربية تعاني من مشكلات حدودية – دولة تشترك فى نهر بوج – 7- دولة تشترك  
فى نهر بوج –  
8- دولة تشترك فى نهر بوج –حدد عاصمة اقميت بسبب المواصلات – جبال البرانس  
9- ثم استخرج من الخريطة – دولتمقر لحلف الناتو – دولة تتمتع بالنظام البرلمانى  
10- ثم وضح ما اثر الزيادة السكانية على الحدود فى اوربا -

**الاجابة**

- ( أ ) الدولة التى اتحدت بعد انهيار الاتحاد السوفيتى ( المانيا ) – ( ب ) دولة مجزاء برىا بحريا ايطاليا – ( ج )  
دولة النموذج الامثل للوحودية فرنسا  
مدلول الارقام 2- دولة ايطاليا – 3- فرنسا – 4- المانيا – 5- اسبانيا – 7- اوكرانيا – – 8- بيلاروسيا هولندا -  
9- بلجيكا – المملكة المتحدة  
10- اثر الزيادة السكانية اختفاء التخوم وظهور الحدود الخطية



#### السؤال السادس

امامك خريطة لقارة افريقيا ( ضع المطلوب داخل المستطيل والرمز ا

- الرمز الدال ( ا ) دولة عربية بها مشكلة حدودية وتقع على جبهتين بحريتين  
الرمز الدال ( ب ) دولة حبيسة بحيرية  
الرمز الدال ( ج ) مشكلة سياسية اقتصادية تطل على البحر المتوسط  
الرمز الدال ( و ) دولة مندمجة منتظمة تطل على جبهتين على مسطح مائي  
اكتب مدلول الارقام – 1- دولة مندمجة منتظمة ذات بروز ..... 2- مسطح  
3- مسطح مائي ..... 4- مضيق ..... 5- مضيق .....

#### الاجابة

- الرمز الدال ( ا ) دولة عربية بها مشكلة حدودية وتقع على جبهتين بحريتين ال  
الرمز الدال ( ب ) دولة حبيسة بحيرية او غندا  
الرمز الدال ( ج ) مشكلة سياسية اقتصادية تطل على البحر المتوسط – تونس  
الرمز الدال ( و ) دولة مندمجة منتظمة تطل على البحر بجبهتين – مصر  
مدلول الارقام – 1- الكنفو – مسطح مائي المحيط الهندي – 3- المحيط الاطلنطي  
4- مضيق جبل طارق – 5- مضيق باب المندب

#### السؤال السابع – بم تفسر

- 1- عصبية الامم لم تكن النموذج الامثل للمنظمات الدولية
- 2- اهمية العلاقة بين عدد الجيش وقوة الدولة العسكرية
- 3- تعد الانتاج الزراعي من اهم متطلبات الامن القومي للدولة
- 4- تتأثر قوة الدولة بعدة عناصر
- 5- قيام بعض الدول بتغير مسار حدودها السياسية
- 6- تزايد مشكلة سبتة ومليلة عام 1985
- 7- تعد ازمة الطاقة ازمة بترول في المقام الاول
- 8- يعد المجلس الاوربي قمة اجهزة الاتحاد الاوربي
- 9- لجات كثير من دول العالم لتكوين احلاف عسكرية
- 10 – ارتباط دول العالم مع بعضها في منظمات واحلاف دولية واقليمية
- 11 – تتمز الدول العربية ببساطة التركيب اللغوي
- 12- لا يوجد نظام مثالي للحكم في العالم

#### الاجابة

- 1- عصبية الامم لم تكن النموذج الامثل للمنظمات الدولية لانها فشلت في تحقيق هدفها وهو ضمان السلم ومنع الحرب وتنظيم العلاقات الدولية مما ادى الى قيام الحرب العالمية الثانية وذلك بسبب 1- عدم انضمام دول كبرى مثل الولايات المتحدة والاتحاد السوفيتي 2- انسحاب دول اخرى مثل اليابان والماتيا 3- افتقارها للقوة العسكرية
- 2- اهمية العلاقة بين عدد الجيش وقوة الدولة العسكرية كلما زاد عدد الجيش مع المقومات الاخرى اصبح للدولة دورا مؤثرا ومهما في السياسة الدولية مثل الولايات المتحدة والصين وروسيا الاتحادية
- 3- يعد الانتاج الزراعي من اهم متطلبات الامن القومي للدولة 1- لانه يعفى الدولة والشعب من التعرض للضغوط الخارجية وتحقيق الاكتفاء الذاتي وقت الازمات والحروب ويزيد من قوتها السياسية ولهذا تصنف الدول الى دول لديها فائض مثل كندا – ودول اكتفاء مثل فرنسا ودول لديها نقص وهي الدول النامية
- 4- تتأثر قوة الدولة بعدة عوامل وهي مساحتها وشكلها – سكانها – القوة الاقتصادية – القوة العسكرية – القوة التنظيمية
- 5- قيام بعض الدول بتغير مسار حدودها وهذا يحدث في مرحلة تعين الحد عند تعين الحد على الخريطة باستخدام الخرائط التفصيلية والصور الجوية تبرز المسائل الصغيرة مثل مزرعة او قرية يقع جزء منها في دولة واخر في دولة اخرى مما يؤدي الى تغير مسار الحد حتى لاتحدث منازعات في المستقبل

- 6- زادت مشكلة سبتة ومليلة عام 1985-1- محاولة السكان الاسبان الحصول على الحكم الذاتي بعيدا عن الحكومة الاسبانية 2- اصدار اسبانيا قانون يلزم الاجانب في اسبانيا بالحصول على اذن اقامة كل خمس سنوات وهنا يعتبر الاسبان في سبتة ومليلة السكان المغاربة اجانب وهم اصحاب الارض
- 7- تعد ازمة الطاقة ازمة بتزول في المقام الاول – لان البترول والغاز الطبيعي يساهمان في المقام الاول بانتاج ثلثي انتاج الطاقة ونصف التجارة الدولية وخاصة من دول العالم الثالث وخاصة منطقة الشرق الاوسط ومن ظهرت اثارها في العلاقات الدولية في مجالين رئيسيين وهما علاقة الدول المتقدمة والدول النامية حيث رفعت شأن العالم الثالث وعلاقة الدول المتقدمة بعضها ببعض ولهذا نجد الصراع على منطقة الشرق الاوسط لغناها بمصادر الطاقة
- 8- يعد المجلس الاوربي قمة اجهزة الاتحاد الاوربي لانه يتكون من رؤساء الدول والحكومات – ويحدد المجلس اتجاه اولويات السياسة العامة للاتحاد -
- 9- لجأت كثير من دول العالم لتكوين احلاف عسكرية لانها تعد من مقومات نجاح واستمراره – 2- التكتل الاقتصادي بوجاه منافسة من الدول الاخرى او من التكتلات الاقتصادية الاخرى ففي ضوء المنافسات التي ينتج عنها نزاعات قد تلجا فيها التكتلات الاقتصادية الى استخدام القوة او التلوح بها
- 10- – ارتباط دول العالم مع بعضها في منظمات واحلاف دولية واقليمية بسبب زيادة الصراعات بعد الحرب العالمية الثانية بين المعسكرين الشرقي والغربي وحل المنازعات وعن طريقها تستطيع الدول ان تفتح افاق جديدة لتبادل الخبرات في مجالات مختلفة بما يؤمن مستقبلها

### السؤال الثامن

#### دليل جغرافيا

- 1- اهمية موقع كشمير
- 2- تغيرت استراتيجيات حلف الاطلنطي بعد انهيار الاتحاد السوفيتي بعد 1991
- 3- اضعاف هنية الامم المتحدة بسبب التنافس بين القوى الكبرى
- 4- عملية الانتخابات لها جوانب جغرافية كثيرة تتناولها الجغرافيا السياسية
- 5- تعد وسائل النقل من الامور الضرورية للدولة العصرية
- 6- تبني الاتحاد الاوربي عدة شروط

#### الاجابة

- 1- موقعها الجبلي المنحصر بين اربع دول الصين والهند وباكستان وافغانستان جعلها مكانا مناسباً لقضاء اجازة لاستعمار البريطانى هروبا من شدة الحرارة والامطار الغزيرة في الهند – 2- تتمتع كشمير بالمناظر الطبيعية والغابات التي تجذب اليها السياحة
- 2- تغيرت استراتيجيات حلف الاطلنطي بعد انهيار الاتحاد السوفيتي 1991 حيث 1- توسع شرقا 2- ربط مستقبل الامن الاوربي بالدور الذي يقوم به الحلف في الازمات الكبرى داخل اوربا واطرفها – ايجاد دورلة في الازمات الاوربية وفي الشرق الاوسط
- 3- اضعاف هنية الامم المتحدة بسبب التنافس بين القوى الكبرى الاتحاد السوفيتي – والولايات المتحدة مما ادى الى عدم قدرة المنظمة الدولية على تحقيق الامن والسلام الدوليين – زيادة الحرب الباردة بينهما كانت سببا في اضعاف هنية الامم المتحدة – انهماك الحلفين في سياسة سباق التسلح قفل واطرفها في الازمات الاوربية مما اضعف هنية الامم المتحدة
- 4- عملية الانتخابات لها جوانب جغرافية كثيرة تناولتها الجغرافيا السياسية حيث تدرس تقسيم الدوائر الانتخابية – عددها حدودها موقعها مساحتها عدد السكان خصائص السكان – استخدامات الارض – التغيرات التي تطرأ على الدوائر الانتخابية – التباين المكاني في التصويت وانماطه وامنيته
- 5- تعد وسائل النقل من الامور الضرورية العصرية لانها تسهل حركة الجيش والاتصال وقت الحرب ونقل الامتدادات عند التعرض للكوارث – تسهل سيطرة الحكومة على الامور الادارية والسياسية في جميع انحاء الدولة – تؤدي الى نجاح خطط التنمية واستثمار موارد الدولة – تؤدي الى زيادة تمسك الدولة الداخلي وزيادة وحدتها القومية – تقوى العلاقات الداخلية والخارجية سرعتها تجعل الدولة سريعة الدفاع والهجوم
- 6- تبني الاتحاد الاوربي عدة شروط – بسبب الفرق الشاسع في المستوى الاقتصادي والسياسي بين دول اوربا مما دفع الاتحاد الاوربي يوضع شروط عرفت باسم شروط كونيهاجن وهي 1- شروط اقتصادية وجود نظام قادر على التعامل مع المنافسة الموجودة بين دول الاتحاد – تعديل تشريعات وقوانين الدولة

بما يناسب مع قوانين وتشريعات الاتحاد الاوربي -شروط سياسة ضمان الديمقراطية وتطبيق القانون واحترام حقوق الانسان

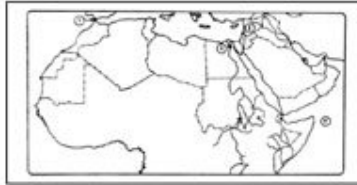
### السؤال التاسع دتل جغرافيا على صحة العبارة الاتية

- 1- معظم دول افريقيا محدودة الاهمية من حيث موقعها الجغرافي
  - 2- تطور وسائل التصوير والمرينات الفضائية بالنسبة للجغرافيا السياسية
  - 3- تتعدد اهداف الجغرافيا السياسية
  - 4- تصفية الاستعمار لمستعمراته على نشأة الحدود
  - 5- تكتسب المواقع الاستراتيجية اهمية كبيرة للدولة
  - 6- هناك علاقة بين عملية الانتخابات والجغرافيا السياسية
  - 7- هناك علاقة بين التطور التكنولوجي ووظائف الحدود
  - 8- الدين واللغة اهم خصائص السكان
- الاجابة 1-** معظم دول افريقيا محدودة الاهمية لان معظم قارة افريقيا دول حبيسية فهي اولى قارات العالم فى الدول الحبيسة التى لا تطل على اى مسطح مائى مما يضعف من قوة الدولة فيزداد قوة الدولة
- 2- تطور وسائل التصوير الجوى والفضائى ادت الى 1- توفير معلومات اكثر دقة فى المجالات التى تهتم بها الجغرافيا السياسية مثل - 1- الحدود السياسية بين الدول --2- الممرات الملاحية والمياه الاقليمية - مناطق تزج الحدود
- 3- تتعدد اهداف الجغرافيا السياسية 1- دراسة الوحدات السياسية من ملامحها الجغرافيا - 2- تحديد عناصر القوة والضعف للوحدات السياسية -3- تحليل التجمعات الاقليمية والعالمية تحليلا جغرافيا -5- توفير البيانات والمعلومات الموضوعية اللازمة لاتخاذ القرارات السياسية والعسكرية -6- التعرف بالمشكلات السياسية وتحليلها واقتراح حلول مناسبة مثل دور الجغرافيا بعد الحرب العالمية الاولى والثانية فى رسم الحدود -دور الجغرافيين فى الدفاع عن حق مصر فى طابا
- 4- تصفية الاستعمار لمستعمراته ادت الى نشأة الكثير من الحدود السياسية الخطية فى قارة افريقيا واسيا وامريكا الجنوبية
- 5- تكتسب المواقع الاستراتيجية تلك المواقع التى تكتسب اهمية نظرا لاشرافها او امكانية تحكمها فى طرق الملاحة البحرية والدولية او البرية 2- وتعد المواقع الاستراتيجية فى غاية الاهمية بالنسبة للدولة سواء وقت الحرب او وقت السلم

### السؤال العاشر امامك خريطة للوطن العربى وضح عليها ( ملحوظة ضع المطلوب داخل المستطيل

#### والرمز الدال على الخريطة

- 1- الرمز (أ) دولة بها مقر مجلس التعاون الخليجى ولها جبهتين وقلبها ثقافى ورسمت حدودها الرعوية مع اليمن
- 2- المرز (ب) دولة عربية تعاني من مشكلات اقلية واعترفت بلغتهم
- 3- الرمز (ج) عربية بها مياه داخلية وجبهتين بحريتن وحدودها فلكية سياسية بشرية
- 4- ثم حدد عليها اهم المضايق الاستراتيجية التى تتحكم فيها دول الوطن العربى - ثم دولة عربية طبعها جبلى
- 5- الرمز (ف) مسطح مائى شمال الوطن العربى الافريقى
- 6- الرمز (ق) مسطح مائى يقع شرق الوطن العربى
- 7- اكتب مدلول الارقام على الخريطة



#### السؤال الحادى عشر

#### - دتل على صحة او خطأ تلك العبارات الاتية

- 1- تمارس الدولة سيادتها الكاملة على المياه المحايدة والتكميلية
- 2- تؤثر التضاريس فى قوة الدولة
- 3- الوحدة الاقتصادية هى غاية التكامل الاقتصادى بين الدول
- 4- ادت سياسة جورباتشوف الى قيام المائيا الموحدة
- 5- من مقومات التكامل الاقتصادى التنوع والتنشابة بين الدول
- 6- يختلف تاثير الاقلية فى الدولة حسب الانتشار
- 7- يسهم التنوع المناخى فى درجة الاكتفاء الذاتى للدول

- 8- تختلف الخصائص السكانية في مجلس التعاون لدول الخليج العربي  
9- بتشابه خصائص النظام الرئاسي مع خصائص النظام البرلماني  
10- حصلت الصين على مقعد دائم في مجلس الامن لثقلها الاقتصادي والعسكري

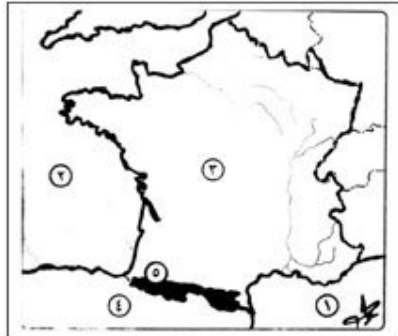
#### الاجابة

- 1- العبارة خطأ تمارس الدولة سيادتها كاملى على المياه الاقليمية لانها جزء من الحدود السياسية للدولة بينما تمارس سلطات جمركية واجراء خاصة بالرقابة والاشراف الضروريين لتحقيق الامن والسلامة للمحافظة على مصالحها الحيوية والمياه المحايدة تدعى بعض الدول سيادتها عليها وتمنع الدول العمليات العسكرية الاجنبية فيها والتي تدعى الحق فيها يعتمد على قوة الدولة  
2- العبارة صحيحة - تؤثر التضاريس في قوة الدولة 1- تؤثر في النواحي العسكرية فهي تحدد سير العمليات العسكرية 2- تؤثر في مدى استثمار موارد الدولة المائية والمعدنية 3- تؤثر في النشاط البشرى وتوزيع السكان في الدولة  
3- العبارة خطأ لان الوحدة الاقتصادية ليس هي الغاية فقد تكون هناك اهداف سياسية - وتلبي اثر الصدمات الخارجية بتقليل الاعتماد على الخارج وذلك بزيادة التنوع الانتاجي - تحقيق رفاهية المواطنين - تنوع الانتاج - تهسي عملية التنمية الاقتصادية واقامة المشروعات المشتركة  
4- العبارة صحيحة - سياسية جورباتشوف حيث انة اعلن عن سياسة جديدة تتمثل في اعادة البناء الاقتصادي 01004609517 من خلال الشفافية السياسي - الاعتماد على القطاع الخاص - 3 تشجيع المستثمرين الاجانب على الاستثمار - 4- الانفتاح على الغرب - ولكن فشلت سياسيته في ايجاد نظام اكثر تطورا وبدات النزعة الانفصالية تظهر في الجمهوريات السوفيتية من ناحية 2- النزعة الانفصالية لحنف وراسو - عام 1990 بداية سرعة التغيرات اذا هدم سور برلين واعلنت الوحدة الالمانية - وبدات الجمهورية السوفيتية باعلان نفسها دولة مستقلة مستغلة الفوضى في الاتحاد السوفيتي  
5- العبارة خطأ - التكامل بطبيعته يقوم على التنوع وليس التشابه حيث ان عدم توافر الموارد الطبيعية بشكل كاف لدى بعض الدول يكون حافزا لها على دخول في التكامل مع غيرها في الدول التي تتوافر فيها الموارد الطبيعية  
6- العبارة صحيحة - اذا كانت الاقلية مركزة في مكان ما خاصة في اطرافها هنا يكون الخطر لانها تؤثر على استقرار الدولة وخاصة اذا كانت هناك قوى خارجية تشجها بالانفصال عن الدولة الام مثل الباسك في اسبانيا - وسكان تيمور الشرقية في اندونيسيا - اما اذا كانت الاقلية منشرة وسط الاغلبية فلا تؤثر في الاستقرار السياسي ويكون مطلبها بالانفصال معدوما  
7- العبارة صحيحة - يسهم التنوع المناخي في درجة الاكتفاء الذاتي حيث يؤدي الى تنوع افى الانتاج الزراعي الذي يعمل على تنوع لانشطة الاقتصادية مما يؤدي الى التكامل بين اقاليم الدولة وتعزيز وحدتها  
8- العبارة خطأ - سكان دول الخليج يتميزو بخصائص مشتركة زادت من تلاحمهم منها الدين واحد واللغة واحدة والجوار والتاريخ والعادات مشتركة ويعتمد اقتصادهما على البترول  
9- العبارة خطأ - يختلف النظام الرئاسي عن النظام البرلماني حيث الرئاسي يتميز ب الرئيس يسود ويحكم - السلطة التنفيذية مستقلة عن السلطة التشريعية - السلطة التشريعية هي التي تقوم وحدها بالتشريع - السلطة القضائية وهي مستقلة - بينما النظام البرلماني - يتميز 1- رئيس او ملك يسود ولا يحكم - رئيس الوزراء يتولى مسئولية الحكم منتخب من الشعب - البرلمان مصدر السلطة والتشريع ومنتخب من الشعب

- 10- العبارة خطأ - حصلت الصين على مقعد في مجلس الامن بسبب حجم سكانها وليس ثقلها الاقتصادي والعسكري لانها لم تكون لديها قوة عسكرية او اقتصادية حينذاك

#### السؤال الثاني عشر

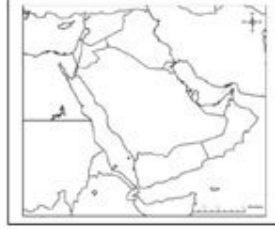
امامك خريطة لدولة فرنسا وضع عليها ( ملحوظة  
ضع المطلوب داخل المستطيل والرمز الدال عنية  
على الخريطة



- 1- الرمز ( أ ) الرمز الدال على نهر يفصل بين فرنسا والمانيا
- 2- الرمز ( ب ) الرمز الدال على مسطح مائي يقع شمال فرنسا
- 3- اكتب ما تدل عليه الأرقام على الخريطة 1- مسطح مائي ..... 2- مسطح مائي .....
- 3- دولة ..... 4- دولة ..... 5- حد طبيعي .....
- 4- ثم وضح هل فرنسا مثالية في حدودها ولماذا ثم النهر الذى يوجد بها ولا يؤثر مشكلات سياسية ولماذا – قم حدد نوعها – شكلها – شكل الحكم – شكل الحكم بالنسبة للسلطات الثلاث
- الاجابة – 1- الرمز ( أ ) الرمز الدال على النهر الذى يفصل بين فرنسا والمانيا – الراين
- 2- الرمز ( ب ) بحر الشمال –
- الارقام 1- البحر المتوسط --- 2- خليج بسكاي او المحيط الاطلنطي – 3- دولة فرنسا – 4- اسبانيا
- 5- حد طبيعي جبال البرانس
- فرنسا دلة مثالية لان حدودها طبيعية جبال البرانس – نهر الراين فى الجنوب البحر المتوسط فى الشمال بحر الشمال – شكلها مندمج منتظم لتساوى المسافة من الوسط الى الاطراف – شكل الحكم جمهورى – شكلها بالنسبة للسلطات الثلاث شبة رئاسى --

### السؤال الثالث عشر

- ( ١ ) - امامك خريطة لشبة الجزيرة العربية وضح عليها ( ملحوظة ضع المطلوب داخل المستطيل والرمز الدال عليه على الخريطة



- 1- الرمز الدال ( أ ) دولة تطل على جبهتين بحريتين وتتحكم فى مضيق استراتيجى
- 2- الرمز الدال ( ب ) دولة تطل على جبهتين ورسمت حدودها لتنظيم حركة الرعاة وتتحكم فى مضيق استراتيجى
- 3- الرمز الدال ( ف ) دولة بها مقر مجلس التعاون الخليجى وبها قلب دينى ثقافى
- 4- الرمز الدال ( ق ) مسطح مائي يقع شرق شبة الجزيرة العربية
- 5- الرمز الدال ( ث ) مسطح مائي يقع غرب شبة الجزيرة العربية

### الاجابة

- ( ١ ) 1- عمان – 2- اليمن – 3- المملكة العربية السعودية --- 4- الخليج العربى – 5- البحر الاحمر

### ( ب ) مالفنتائج التى ترتبت على .....

- 1- حركة السكان منذ فجر التاريخ عبر الاوطان والاقاليم والقارات
- 2- زيادة عدد السكان فى قارة اوربا وتأثيرها على حدود القارة
- 3- التغيرات المناخية فى غرب افريقيا على حركة الرعاة
- 4- النحت والارساب والفيضانات التى تعرضت لها الانهار
- 5- التقدم العلمى التكنولوجى وتأثيره على مناخ الدولة

### ( ب ) الاجابة

- 1- حركة السكان ترتب عليها - لم يعد هناك شعب نقى – اكتساب دماء جديدة وعناصر جنسية وقومية وثقافية على الشعوب المستقبلية – اصبح غالبية الدول تضم اقلليات
- 2- زيادة عدد السكان فى قارة اوربا اختفاء التخوم نتيجة التوسع السكانى الذى صاحبه تقدم وسائل المواصلات التى سهلت عملية التوسع والتقت مصالح الدول بعد ان انكشف الارض نتيجة قطع الاشجار الغابات وكان لابد من رسم الحدود واختفاء التخوم من على الخريطة السياسية
- 3- التغيرات المناخية ترتب عليها - نفوق ملايين الحيوانات - هجرة السكان الى المدن او الى حرفة الزراعة مما ادى الى وجود مشاكل سياسية اساسها حرفة الرعى وهجرة الرعاة بين الدول
- 4- النحت والنقل والارساب للانهار ترتب عليه تغير الانهار لضفتها وحدثت مشكلات مثلما حدث فى نهر الربو جراند بين الولايات المتحدة والمكسيك وتحولت منطقة بانكو من تبعيتها من الولايات المتحدة الى المكسيك
- 5- التقدم العلمى والتكنولوجى - 1- قلل من اثر المناخ السلبى لدولة نتيجة تطور وسائل النقل والمواصلات – واجهزة التكيف – والزراعة المحمية الحديثة ( البيوت البلاستكية )



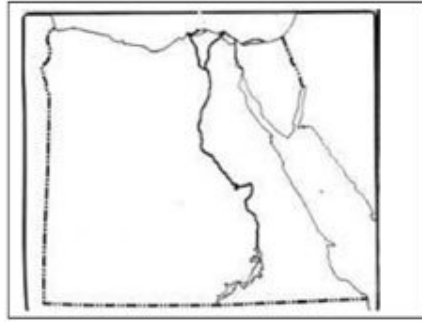
**اكتب المفهوم الجغرافي امام العبارات الآتية**

- 1- مجموعة بشرية ذات سمات وخصائص تختلف عن مثيلاتها في مجتمع الاكثرية
- 2- اى تهديد للدولة يمس سيادتها على اراضيها او يمس استقرار شعبيها وتماسكها
- 3- دولة لها حكومة واحدة ومجلس نيابي واحد وتسيطر فيها الحكومة على جميع السلطات
- 4- اتفاق رسمي تتعهد بموجبه مجموعة من الدول بان تتعاون فيما بينها في مجال الاستخدام المشترك لقدرتها العسكرية
- 5- مجموعة تفاعلات بين اطراف او وحدات دولية ( منظمات او دول )
- 6- مجموعة القواعد والتشريعات والقوانين التي تنظم عملية انتخاب ممثلى الشعب
- 7- الدولة المقسمة الى وحدات ادارية قد تكون ولايات او مقاطعات يكون لهذه الوحدات نوع من الاستقلال الذاتى فيما عدا النواحي المالية والدفاعية
- 8- العواصم التي ظلت لقرون عدة المركز الاقتصادى والثقافى الرئسى فى الدولة
- 9- نطاق من المياه البحرية تحدد حافطة الخارجية من جهة البحر الحد السياسى البحرى للدولة
- 10- عملية تغير الانماط والنظم السياسية والاقتصادية والاجتماعية تقوم به الدول القوى
- 11- وحدة سياسية تشغل منطقة معينة من سطح الارض تضم سكانا دائمين

**الاجابة**

- 1- الاقلية – 2- مشكلة سياسية – 3- الوحدية – 4- الاحلاف العسكرى – 5- العلاقات الدولية – 6- النظام الانتخابى – 7- الفيدرالية – 8- العواصم القديمة – 9- المياه الإقليمية – 10- 0 العولمة – 11- الدولة
1. وضح العلاقة بين العلاقات الدولية والثورة الصناعية) الاجابة :- 1- نقلت العلاقات الدولية من علاقة الجوار الى افاق اوسع شملت العالم بأسرة – 2- نقلت فى عهد القوى الاستعمارية الاوربية من علاقات الحرب الى السلم والى مجالات اخرى 3- فى الوقت الحالى تشعبت العلاقات الدولية بين دول العالم واصبحت تمثىل سياسى واقتصادى وعسكرى وثقافى وصحى .

2. وضح العلاقة بين اللغة وقوة الدولة السياسية الاجابة - 1- تعد اللغة وسيلة التفاهم والاتصال وتبادل الاراء وتلعب دورا فى بناء الدولة وقوتها السياسية وهى احد مقومات الحضارة وعامل هام فى توحيد السكان – ووحدة اللغة تزيد من تماسك الدولة وتعدد اللغات يضيف من قوة الدولة وخاصة اذا كانت تضم اقلية لغوية ذات نزعات انفصالية ( مثل ايطاليا )



3. امامك خريطة لمصر وضح عليها الآتى
- 1- حد طبيعى – 2- حد طبيعى سياسى – حد فلكى مستقيم – مياه داخلية –
- الاجابة 1- حد طبيعى فى الشمال البحر المتوسط
- 2- حد طبيعى سياسى الشرقى لوجود البحر الاحمر ومن طابا لرفح سياسى – حد فلكى مستقيم الحد الجنوبى –مياه داخلية البحيرات الساحلية – من جهك نظرك هل تمتلك مصر مقومات الدولة القوية – وهل استخدمت مراحل مراحل تحديد الحدود
- ثم اذكر الاهداف المعلنة للنظام العالمى الجديد
- 3- قارن بين نظرة راتزل وابن خلدون للدولة